



Тест

Введите фамилию и имя

Всего заданий

4





[Начать тестирование](#)

Время тестирования

5

мин.

Как на чертеже изображается линия сгиба?



Задание

1

1 бал.

Выберите все правильные ответы!



Далее



Какие из перечисленных фигур относятся к базовым формам оригами

1 квадрат


2 прямоугольник

3 треугольник

4 круг



Назовите базовую форму оригами



Введите ответ:

Задание

3

1 бал.



Далее



Как на чертеже изображается линия надреза?


1



2



3



Результаты тестирования

Оценка

Правильных ответов

Набранных баллов

Ошибки в выборе
ответов на задания:

Всего заданий

бал.

Снова

Выход

Затрачено времени